

多摩大学附属聖ヶ丘中学校

二〇一九年度入試問題

# 国語

第四回（二月三日午前実施）



二〇一九年度

入学試験問題

(二月三日午前)

国語

多摩大学附属聖ヶ丘中学校

- 一 開始の合図があるまで問題用紙・解答用紙にふれないでください。
- 二 開始の合図があったら、最初に問題用紙十ページ、解答用紙二枚を確認してください。
- 三 解答用紙に受験番号と氏名を記入してから始めてください。
- 四 問題についての質問は受け付けません。印刷のはっきりしないところや用事がある時は、声を出さずに手をあげてください。
- 五 字数が指定されている問題は、記号・句読点も一字として数えてください。
- 六 問題用紙は回収しません。
- 七 筆記用具の貸し借りはしないでください。
- 八 試験時間は五十分です。終了五分前になったら知らせます。
- 九 答案を書き終わっても座席からはなれないでください。

次の(1)～(5)の——線部の漢字をひらがなに、(6)～(10)の——線部のカタカナを漢字に改めなさい。

- (1) それは私の財布です。
- (2) 大金を失ってしまふ。
- (3) この温泉は湯量が豊富だね。
- (4) とれた稲を精米する。
- (5) 感動して号泣する。
- (6) 座り心地が良くて、カイテキだ。
- (7) マット運動はキカイ体操の一つだ。
- (8) オウフクの切符を買う。
- (9) この会社のギョウセキはすばらしい。
- (10) 彼の主張はシユビイッカンしている。

二

次の(1)～(5)は小林一茶の俳句です。( )にあてはまる漢字一字を、あとのア～オの中からそれぞれ一つずつ選び、記号で答えなさい。

(1) めでたさも中くらいなりおらが ( ) ( )

(2) ( ) ( ) とけて村いっばいの子どもかな

(3) 雀すずめの子そこのけそこのけお ( ) ( ) が通る

(4) われと来て遊べや親のない ( ) ( )

(5) やせ ( ) ( ) 負けるな一茶これにあり

ア 春

イ 馬

ウ 雪

エ 蛙かえる

オ 雀

次のカタカナの文章を読んで、漢字とひらがなと読点を正しく用いて書き直しなさい。

セイブツキセツカンソクハキセツノススミグアイヤキコウガセイブツニアタエルエイ

キョウヲシラベルタメニカクチノキシヨウダイガオコナツテイル。サクラノソメイヨシ

ノガシラレテイルガカンソクタイシヨウハチイキゴトニコトナル。ゲンザイハドウブツ

ニジユウサンシユモクシヨクブツサンジユウヨンシユモクガシテイサレテイルガコトシ

ハタイフウノヒガイヲウケカンソクガコンナンニナツテイル。

次の文章を読んで、あとの問いに答えなさい。(なお、作問の都合上省略した部分があります。)

誰でもナビゲーションシステムを利用すれば、どこへでもたどりつける時代です。

だからこそ、紙の地図をもつてゆっくり野山歩き、街歩きをするのもいいのではないのでしょうか。気に入った景色にあわせて歩き、ときには道に迷ったりすることで、ドライブでは見落とされがちな何かを発見できるでしょう。そこに、地図の知識がすこし加われば、楽しさも増すでしょう。

そうした野山歩き、街歩きの手はじめに、地図の知識を学びながら机上散歩を試みましょう。

まずは、お江戸の中心「日本橋」から皇居東御苑にある旧江戸城天守台まで、机上散歩してみましょう(図1)。

地図を用意します。何といつてもすぐれているのは、等高線を使って地形が表現されている国土地理院発行の「地形図」です。国土地理院の地図といえ、縮尺二万五千分の一地形図がよく知られています。① 大都会を散策するには、この縮尺ではいかにも不便です。維持管理が十分とはいえないのですが、大都市や地方中核都市には五色刷の一万分の一地形図が用意されていて、各地の大型書店や日本地図センターで ② 入手できます。

この一万分の一地形図「日本橋」で、東京メトロの「三越前駅」のところから出発します。すぐ前を流れる隅田川支流の日本橋川にかかるのは、日本橋です。地形図に「日本橋」という文字表記があります(図2)。しかし、図3のような、両端にひげの生えたような橋の記号がよく見えません。

あたりまえなのですが、地図とは「地表の諸物体・現象を、一定の約束に従って縮尺し、記号・文字を用いて平面上に表現した図」(『広辞苑』)ですから、最上部にある構造物が優先的に表現されます。図3では上から順に、右上から左下に走る① 幅の広い道路、そして直角に交差する② 鉄道、さらにその下を③ 幅の狭い道路、が通っているのがわかるでしょう。

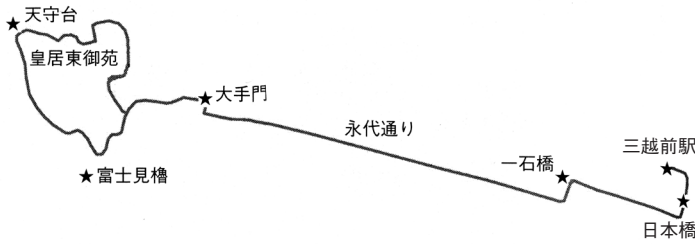


図1

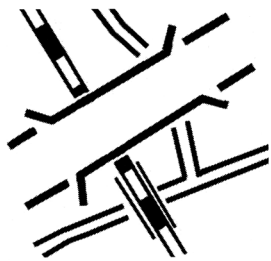


図3

道路が判別しやすいのではないかとはいわれそうですが、話はそうかんたんではありません。役所がつくった地図(官製地図)は、さまざまな主題をもった地図をつくるためのベース図としての役割ももっています。民間地図(主題図)は、道路や観光ガイドといった、それぞれの主題に沿った、わかりやすい表現がある半面、その分だけ主題とは関係のうすい多くの情報が捨てられている



図2

は、紙の地図の宿命なのです。

こうなると、国土地理院の地形図より市販の地図のほうが、使われている色数も多く、首都高速道路が判別しやすいのではないかとはいわれそうですが、話はそうかんたんではありません。役所がつくった地図(官製地図)は、さまざまな主題をもった地図をつくるためのベース図としての役割ももっています。民間地図(主題図)は、道路や観光ガイドといった、それぞれの主題に沿った、わかりやすい表現がある半面、その分だけ主題とは関係のうすい多くの情報が捨てられている

黒一色で描かれた単色の地図であっても、こうした表現の読みとりを容易にさせているのは、「微量の白部」です。ふつうの人でも、単色で立体的に表現するとき用いるこのすきまを、古い地図のつくり手は、とても大切にしてきました。しかし、五色刷りになった一万分の一地形図では、「微量の白部」がおざなりになったのでしょうか、立体感がすこしわかりにくいようです。

のです。たとえば、高速道路はわかりやすいが、個々の建物の形がわからない、土地の起伏がわからないなどです。

さて、身のまわりを見わたすと「地図があふれている」ように見えますが、はたしてじつさいのところはどうか。身近には、どのような地図があり、その地図は従来にくらべてどのような変化が生じているでしょうか。

私のような熟年世代が若者だったとき、あるいは団塊の世代と呼ばれる人たちが子どもだったころ、身のまわりで目にする地図といえば、教科書の地図帳、親がもっていた一枚刷りの世界地図などが一般的でした。すこしのちには世界各国の国旗でふちどられた世界地図、新聞社などが発行する年鑑に添えられたり、あるいは百科事典の別冊となっていた地図帳もありました。いずれも紙の地図です。

そのとき町中で目にする地図には、どのような種類があったかと思ひ浮かべてみます。

私の記憶にあるのは、汽車（電車ではない）の客室の出口付近の壁に貼られたデフォルメされた鉄道路線図、町角の要所にあつたトタン板にペンキで描かれた商店街の案内図、すべて拾い上げてもこの程度でした。

私たちの世代が若かつたころ、待ち合わせ場所を指定されたときには、どのように行動したと思いますか。ことばで地理的な情報を聞き、<sup>⑤</sup>手書きの地図を手わたされ、現場近くでは商店などで情報を聞き、目的地に向かつたはずです。

現在はどうかでしょうか。ケータイに配信される地図とGPS衛星から得られた位置情報による誘導によつて、かんたんに目的地にたどりつけるでしょう。あるいは、ケータイをもつた子どもの行動を、自宅にいながら見守ることができます。目的地の住所を知らされた人は、無償の地図提供サイトを通じて、紙あるいはディスプレイ上に地図を入手し、地図の支援を受けての行動が可能になります。

<sup>⑥</sup>それなのに、書店の地図コーナーには、道路地図、山歩きの地図、バイクツーリングの地図、観光地のガイドマップ、住宅地図、学習用の白地図、歴史散歩地図など、数かぎりないといつていほどの地図と、地図を含んだ書籍類が並べられています。さらに、かつてトタン板に描かれた案内図は、美しくなつて、いまも町角に立っています。

現代の過剰サービス社会は、地図についてもこまごまとした要求にこたえる製品をつくりだしているのです。京都の幕末期の史跡がもられた「京都幕末歴史地図帳」、地下鉄の乗り換えと駅周辺の情報が充実した「地下鉄駅からマップ」、土地の傾斜が一



目でわかる「自転車ツーリングマップ」といったように。

だからといって、いけないといっているわけでもありません。多様な地図の登場が地図の理解者・利用者を増やす、利用者の要望にこたえようとして新しいアイデアが生まれる、そして便利な新製品が開発されるという、いい循環じゅんかんも生んでいます。その反面、過剰サービスじょうの先には、思いがけない発見をする楽しみや、景色の向こうには何があるのだろうかという空想力の減退がおきています。うっそうとした水辺を見ても、「川べりには河童かっぱが住んでいるかもしれない」とは、思わない時代なのです。

(山岡 光治『地図を楽しもう』より)

問一 本文中には次の一文が抜けています。どこに入りますか。直前の五字を抜き出して答えなさい。

こうした過剰サービスが、地図がなければ目的地につけない人をつくりだしているのだ、と私は思っています。

問二 ——— 線部①「大都会を散策するには、この縮尺ではいかにも不便です」とありますが、それはなぜですか。その理由

として最もふさわしいものを、次のア～エの中から一つ選び、記号で答えなさい。

- ア 一万分の一地図に比べて、上から見た情報しか入っていないので、実際に人が歩く目線ではわかりにくいから。
- イ 一万分の一地図に比べて、一定の情報しか入っていないので、一般ぱんの人が使う地図としてはわかりにくいから。
- ウ 一万分の一地図に比べて、情報が入りすぎているので、人の歩く道がわかりにくいから。
- エ 一万分の一地図に比べて、おおよっぱな情報になるので、細かい位置がわかりにくいから。

問三 ——— 線部②「入手できます」とありますが、次のように言い換えたとき、( ) にあてはまる言葉を答えなさい。

( ) います。

問四 本文中の  にあてはまる言葉としてふさわしい漢字二字の熟語を、本文中から抜き出して答えなさい。

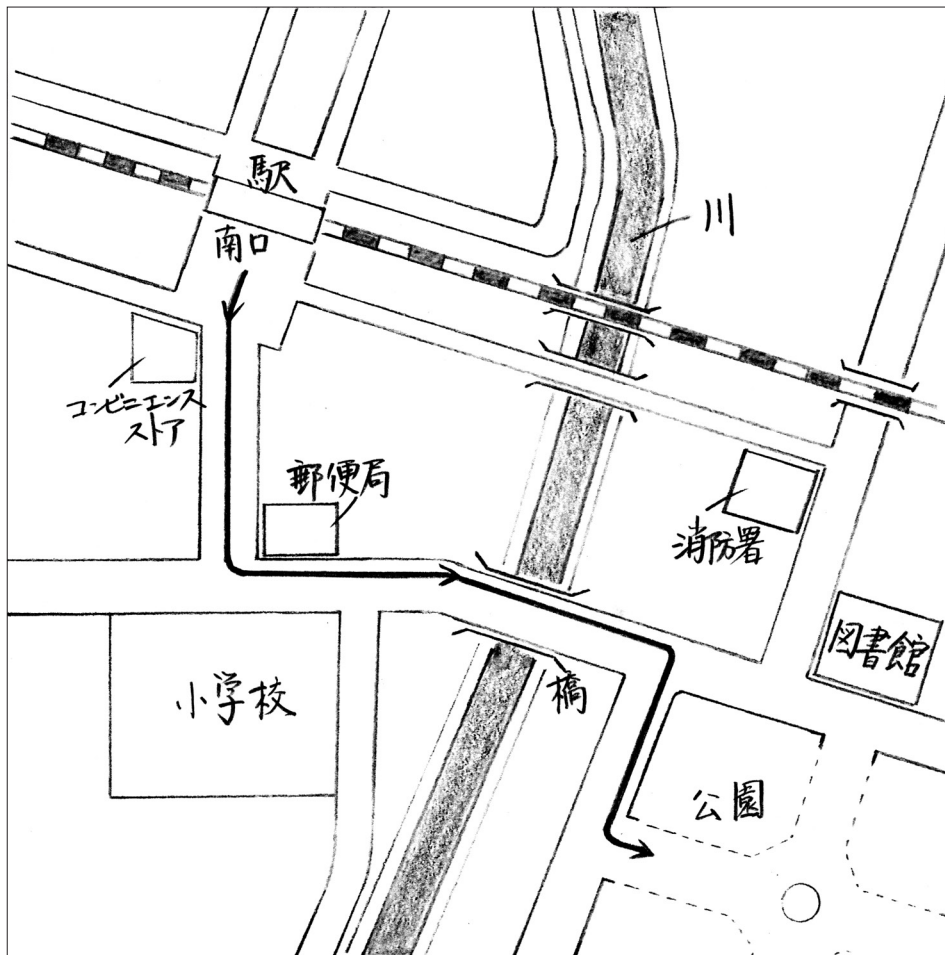
問五 ——— 線部③「おぞなり」とありますが、これと反対の意味を表している言葉を、本文中から抜き出して答えなさい。

問六 ——— 線部④「話はそうかんたんではありません」とありますが、それはなぜですか。理由を示している部分を、本文中から二十五字以内で抜き出して、「から。」に続くように答えなさい。

( ) から。

問七

—— 線部⑤「手書きの地図を手わたされ」とありますが、次の地図に表された矢印に従って、駅南口から公園まで歩く道を説明する文章をつくりなさい。



問八 ——— 線部⑥ 「それなのに」とありますが、「それ」が指す内容を答えなさい。

問九 ——— 線部⑦ 「思いがけない発見をする楽しみや、景色の向こうには何があるのだろうかという空想力の減退がおきています」とありますが、その理由として最もふさわしいものを、次のア～エの中から一つ選び、記号で答えなさい。

ア 何から何まで、すべて地図に書いてあるから。

イ 川に河童かっぱがいないことをみんな知っているから。

ウ 都会には高速道路や高い建物があふれているから。

エ 現代人は忙いそがしくて、気持ちに余裕ゆづがないから。

問十 この文章を読んで、あなたは、「地図の楽しさ」についてどのようなことを思いましたか。二百字以内で書きなさい。



四

受験番号			

氏名	
得点	

小計	四

\*印のところは、何か記入してください。

問一							
問二							
問三							
問四							
問五							
問六							
問七							
問八							
問九							
問十							

\*実際の解答用紙はB4判です。

から。

います。

受験番号			
------	--	--	--

氏名	
----	--

\*印のころは、何も記入しないでください。

得点	
	*

三

生物季節観測は、季節の進み具合	や気候が生物に与えるいきよう	を調べるために、各地の気象台が	行っている。桜のそめ井吉野が知	られているが、観測対象は地域ご	とに異なる。現在は動物二十三種	目、植物三十四種目が指定されて	いるが、今年には台風のひ害を受け	、観測が困難になっ	ている。
-----------------	----------------	-----------------	-----------------	-----------------	-----------------	-----------------	------------------	-----------	------

二

(1) ア	(2) ウ	(3) イ	(4) オ	(5) エ
-------	-------	-------	-------	-------

各2点×5

小計	三
	*
	10

一

(1) さいふ	(2) たいきん	(3) ほうふ	(4) せいまい
(5) ごうきゆう	(6) 快適	(7) 器械	
(8) 往復	(9) 業績	(10) 首尾一貫	

各1点×10

小計	一
	*
	10

小計	三
	*
	20

**四**

受験番号		

氏名	

得点
*

\*印のところは、何も記入しないでください。

問一 たように。

問二 エ

問三 売って います。

問四 立体

問五 大切に

問六 主題とは関係のうすい
多くの情報が捨てられ

- 問一 ..... 7点
- 問二 ..... 5点
- 問三 ..... 4点
- 問四 ..... 4点
- 問五 ..... 4点
- 問六 ..... 6点
- 問七 ..... 9点
- 問八 ..... 6点
- 問九 ..... 5点
- 問十 ..... 10点

問七 南口を出て、コンビニエンスストアを右にしてまっすぐ進むとつきあたりに小学校があります。郵便局の前を左にまがり、橋を渡ります。わたりきると右に公園がありますので右にまがり、公園に沿ってすすみます。

問八 ケータイによって、かんたんに情報を得て目的地にたどりつけること。

問九 ア	問十

\*実際の解答用紙はB4判です。